

<範圍：L3~L4 >

【劃卡代號：53】

班級：

座號：

姓名：

※答案卡限用 2B 鉛筆劃記，答案請劃記明確；若有劃記錯誤，請擦拭乾淨。分數以電腦讀卡分數為準。

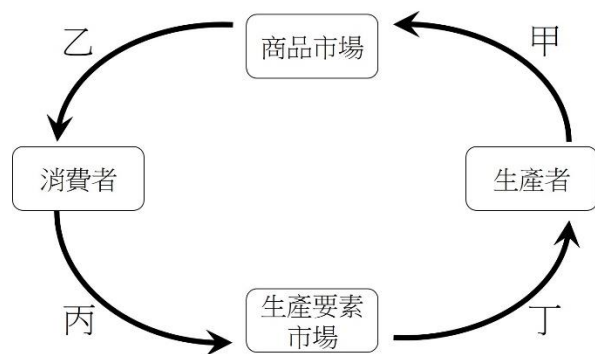
第一大題：( 共20題，1~20題每題3分，共計60分 )

◎ 請根據文意回答下列 2 問題：

全球新冠病毒疫情舒緩，疫情後國境開放即將滿一年，航空業務逐漸回到疫前的高峰。國內四大航空業者華航、長榮航、星宇航空及台灣虎航加速含金量最高的日本線布局，瞄準寒假出遊商機提供更多航班「甲」，以滿足國人報復性出國需求。但在疫情期間因為業績慘跌，航空業界普遍裁掉不少空勤和地勤人力，現在重新招募人員成為重要課題。以華航為例，睽違 3 年招募空服員，有 4000 人報名僅錄取百人「乙」。

明年第一季國人出國熱潮持續，造成需求大於供給的現象，也使得機票價格居高不下。旅遊業者表示，明年第一季日本旅遊的團費，受機票、飯店等成本上漲，會比今年同期調漲約 30%到 40%。

1. ( ) 新聞中，航空業者的布局「甲」，屬經濟循環圖的哪一個環節？請選出正確代號。



- (A) 甲  
(B) 乙  
(C) 丙  
(D) 丁
2. ( ) 新聞中，華航舉行的考試「乙」，屬經濟循環圖的哪一個環節？請選出正確代號。
- (A) 甲  
(B) 乙  
(C) 丙  
(D) 丁

3. ( ) 中秋節前，食品工廠加緊趕工製作月餅與蛋黃酥。下表列出四位員工每製作一個蛋黃酥的機會成本。若要增加生產效率，下列哪一位員工最可能被分派去製作蛋黃酥？

員工	派大星	海綿寶寶	章魚哥	蟹老闆
機會成本	1/6 個月餅	2/7 個月餅	1/3 個月餅	3/5 個月餅

- (A) 派大星  
(B) 海綿寶寶  
(C) 章魚哥  
(D) 蟹老闆
4. ( ) 廠商從事生產，目的是為了賺取利潤。廠商為了提高利潤，會採取各種方式吸引消費者。下列業者所提及的銷售競爭力提升策略中，何者的競爭類型與其他三者「不同」？
- (A) 更新門市的舊有設備  
(B) 加快商品的調度速度  
(C) 維持實惠的商品價格  
(D) 降低商品的缺貨狀況
5. ( ) 在市場經濟制度下，「看不見的手」引導消費者與生產者分別做出對自己最有利的選擇，使資源做最有效率的分配與使用。請問：下列哪一個選項是由「看不見的手」所引導？
- (A) 高速公路計程通行費  
(B) 公有停車格停車費  
(C) 台北市聯營公車票價  
(D) 國際航線機票價格
6. ( ) 下列有關「網路購物」的說明何者「錯誤」？
- (A) 網購平台研發新產品及增加周邊服務，屬於非價格競爭策略  
(B) 經由網購的任何東西皆享有法定猶豫期保障  
(C) 網購平臺提供免運費的購物優惠，屬於價格競爭策略  
(D) 網購平臺減少實體店面的成本，因此售價通常較便宜

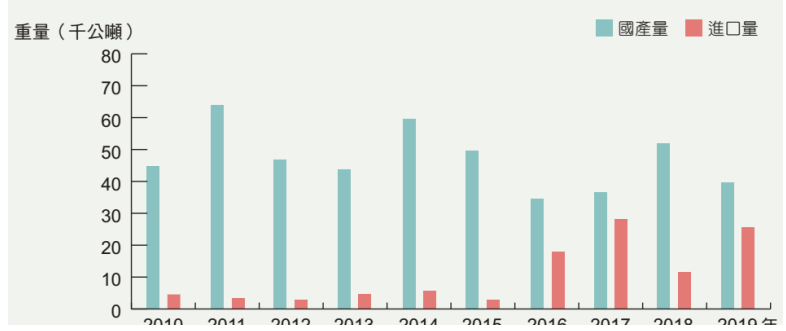
◎ 請閱讀下列文章後，回答以下2問題：

蒜頭為國內雲嘉南地區重要的經濟作物。近年來，受到國內生產成本提高的影響，國產蒜頭的價格比進口蒜頭貴，導致國際競爭力不足。根據統計，我國每年約產出4萬公噸的蒜頭，其中九成來自雲林，在每年2~4月間收成。農糧署表示，國產蒜頭幾乎都在端午節之後會慢慢賣完，而進口蒜頭主要供應國產蒜頭不足時的市場所需。

如果沒有進口蒜頭的調節，國內就會出現蒜頭短缺的情況，導致價格飆漲。2020年，新型冠狀病毒疫情襲捲全球，蒜頭出口國出現缺工情形，出貨量不如以往，加上各國來往受到限制，臺灣的蒜頭進口商無法到當地確認品質，以至於蒜頭不符合規定，而遭到海關退運。

(參考資料：改寫自林怡均，蒜頭天價因進口卡關，業者批檢疫變嚴，防檢局：帶土恐有病菌需退運，上下游NEWS&Market，2020/09/14。)

圖3-2-17 2010~2019年蒜頭進口數量變化圖



7. ( ) 根據上圖，國產蒜頭產量與進口蒜頭數量的關係大致為何？

- (A) 進口蒜頭的數量消長與國產蒜頭數量無關
- (B) 國產蒜頭產量，受到進口蒜頭數量影響
- (C) 國產蒜頭量低時，進口量較多
- (D) 國產蒜頭量高時，進口量也多

8. ( ) 站在消費者的立場，政府開放蒜頭進口有什麼好處？

- (甲) 可以調降國內蒜頭的生產成本
- (乙) 消費者可以較低價格購買蒜頭
- (丙) 消費者可買到有機食品蒜頭
- (丁) 消費者有更多的選擇機會

- (A) 甲乙丁
- (B) 乙丙
- (C) 丙丁
- (D) 乙丁

9. ( ) 依據《○○法》消費者從事某類購物時，對於商品享有「猶豫期」，下列哪項商品屬於「例外不受保障」的情況？

- (A) 八卦新聞週刊
- (B) 環保再生紙漿製造的抽取式紙巾
- (C) 紐西蘭進口的罐裝奶粉
- (D) 昂貴的電腦、手機、3C產品

◎請根據下文內容回答下列 2題問題：

隨著我國邁入高齡社會，國人對美妝保養產品重視程度增加，藥品、醫療及化妝品零售業（以下簡稱藥妝零售業）營業額亦隨之提升，不但吸引量販超市跨足銷售藥妝，更讓國外藥妝業者來臺拓點烈。

其中，藥妝零售業者經營面臨的困境，以「價格競爭激烈，利潤偏低」為主。部分業者開始轉向投入線上市場，但也有業者大量拓展實體店面，因為他們認為消費者仍喜歡在能試用商品，且有駐店藥師及美容師提供諮詢服務的實體店消費。

(參考資料：振興措施助攻，藥妝零售業 7月起重回成長軌道，經濟部統計處，2020/10/05。)

10. ( ) 有關藥妝零售業者的敘述，下列何者正確？

- (A) 非價格競爭是各家零售業者的主要策略
- (B) 業者皆因利潤偏低而大量減少實體店面
- (C) 市場競爭程度與手搖飲店相似
- (D) 所屬商品市場的加入門檻較高

11. ( ) 下列藥妝零售業者的廣告與行銷策略中，何者「不同」於價格競爭？

- (A) 全臺所有門市，皆可最快2小時在離您最近的門市取貨。
- (B) 門市消費結帳時出示會員卡，每1點紅利點數可折抵新臺幣1元消費金額。
- (C) 指定醫美商品，購物滿1500元，立即享有85折！
- (D) 憑券可享滿3000元現折300元優惠。數量有限，送完為止。

12. ( ) 清晨時分，多數人正在夢鄉時，位在基隆的坎仔頂魚市才揭開序幕。剛從漁港載滿漁獲的卡車陸續駛進，將新鮮的漁獲一籃籃擺上攤位；北臺灣地區的魚販、海鮮餐廳經營者，或是喜愛生鮮漁獲的饕客們也魚貫進入，整個魚市場裡熱鬧滾滾，讓人見識到傳統叫賣市場的震撼力。這裡的交易方式，是採拍賣方式，以前一日的成交價格為底價，再漸漸往上加價，直到有買主決定購買為止，因而交易時間從凌晨持續到早上6~7點，造成坎仔頂「不夜城」的特殊景觀。根據上文畫雙底線處的描述，依據交易的對象與內容，對於饕客而言，魚市場是屬於下列何種市場？

- (A) 有形市場
- (B) 無形市場
- (C) 商品市場
- (D) 生產要素市場

<範圍：L3~L4 >

【劃卡代號：53】

班級：

座號：

姓名：

◎阿信從國中畢業已經5年了，今年他想在耶誕節舉辦同學會，連繫同學間的感情。以下是阿信和同學間線上聊天的對話，請根據對話內容回答下列 3 問題：

阿信	各位，國中畢業後已經好幾年沒見了，難得聚會又適逢耶誕節，點心就吃蛋黃酥吧！市面上販售的蛋黃酥太油太甜了，所以我想自己製作低糖少油的蛋黃酥給大家吃。
小宜	阿信願意做，真是太好了。但…你有計算過自己製作會花多少錢嗎？
阿信	我之前做過一次，食材需要麵粉、奶油、砂糖、蛋黃及內餡，製作20個蛋黃酥約500元。
阿宏	我覺得划不來，而且有些成本阿信沒計算到吧？阿信製作的時間改去打工還可以賺300元。
小宜	第二次製作也無法太熟練，應該會手忙腳亂。附近店家賣的蛋黃酥一顆才30元，口味選擇也較多，我們可以買不同的口味吃吃看。
阿信	聽起來，你們說的也有道理。

13. ( ) 根據對話內容判斷，阿信若選擇自行製作蛋黃酥，他付出的機會成本為多少錢？  
 (A) 1100元  
 (B) 800元  
 (C) 500元  
 (D) 300元
14. ( ) 阿信自行製作蛋黃酥，平均每個蛋黃酥的機會成本為多少錢？  
 (A) 55元  
 (B) 40元  
 (C) 30元  
 (D) 20元
15. ( ) 從以上對話來看，下列何者是阿信自己製作蛋黃酥可能產生的缺點？  
 (A) 口味選擇多元  
 (B) 成本不易估算  
 (C) 食材較不健康  
 (D) 品質較不穩定

◎ 請根據文意回答下列 2 問題：

2014 年味全、統一、光泉三大乳品業者，在生乳收購價調漲時，聯合調漲鮮乳售價六至十二元不等。「主管機關」調查認為，三大乳品業者占國內鮮乳市場八成，雖有成本壓力，但共同調高售價，足以影響國內鮮乳市場供需。

「主管機關」認為三家業者違反《○○法》，依市占率大小，分別對味全公司開罰一千兩百萬元、統一企業一千萬元、光泉牧場八百萬元。

16. ( ) 三家業者違反《○○法》的行為可能會造成何種影響？  
 (A) 保障消費權益  
 (B) 生產成本增加  
 (C) 扭曲市場機制  
 (D) 銷貨收入減少
17. ( ) 下列何者「不」適用《○○法》的規範？  
 (A) 產品內容標示不清楚  
 (B) 業者哄抬物價  
 (C) 促銷方式欺騙消費者  
 (D) 囤積商品影響商品價格
18. ( ) 三大乳品業者不服主管機關處分可如何救濟？  
 (A) 向原處分機關提出請願  
 (B) 向行政法院提起行政訴訟  
 (C) 向行政法院提起訴願  
 (D) 向上級機關行政院提起訴願
- 
19. ( ) 知名遊戲公司推出2023最新遊戲大作，粉絲阿聖11月1日特地跑到零售電玩店門口漏夜排隊搶購首發，希望能在第一時間拿到實體遊戲卡匣。不料阿聖回家後卻發現搶購的遊戲卡匣無法讀取。請問：下列的說明何者正確？  
 (A) 遊戲卡匣可以在法定猶豫期內退貨  
 (B) 已開封的遊戲卡匣不受猶豫期保障  
 (C) 依照《民法》可向商家要求更換瑕疵商品  
 (D) 依照《公平交易法》可向商家要求退貨


20. ( )我國為防堵國內新型冠狀病毒疫情蔓延，須盡快提高施打疫苗的人數。為取得足夠的疫苗，政府購買外國疫苗並搭配國產疫苗，部分民間企業及公益團體也積極與外國藥廠申購疫苗，最終順利讓疫苗抵臺。依據上文，下列敘述何者正確？

甲	我國政府機關才是國際貿易中的主要角色
乙	民間企業的作為將會增加我國的貿易收入
丙	此次政策的成功有賴於政府與民間的協力
丁	此進口政策影響我國疫苗產業的資源分配

- (A) 甲乙  
(B) 甲丁  
(C) 乙丙  
(D) 丙丁

第二大題：( 共10題，21~30題每題4分，共 40分 )

21. ( )「飢餓行銷」是一種常見的行銷手法，指的是業者在短時間內利用各種管道宣傳大批民眾排隊購買的熱潮，營造該項商品都會很快被搶購一空的情況，透過媒體將商品炒作成為時下流行的話題，進而引起民眾的消費欲望。關於上述行銷手法對於消費市場的影響，下列敘述何者最適當？
- (A) 民眾的購物意願受非金錢誘因影響而提高  
(B) 消費者受價格誘因影響而增加消費欲望  
(C) 業者的行銷手法將提高市場競爭程度  
(D) 廠商間的競爭使消費者的選擇增加
22. ( )右圖是可以用來說明兩種關係的圖示。根據市場競爭的原理，X軸與Y軸分別可對應哪兩種概念？



- (A) 廠商的價格控制能力與消費者的選擇  
(B) 市場競爭程度與廠商的數量  
(C) 市場進入門檻與市場競爭程度  
(D) 廠商數量與廠商的價格控制能力

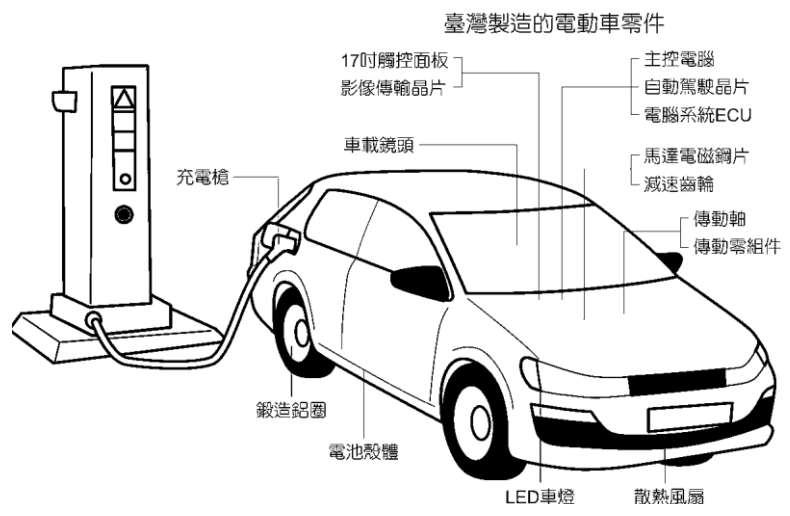
◎請閱讀下列文章後，回答以下3問題：

近年來，全球各國對於綠能政策的推動，以及燃油車逐漸被電動車取代，自駕車和電動車已是車輛產業的發展趨勢。

為追求品質的穩定，汽車廠商不輕易更換供應商。過去，我國廠商很難切入BMW、賓士等傳統一線車廠供應鏈，但是當新車款、新功能使得既有的供應鏈做不來，車廠就要尋求新的供應商。受惠於電動車市場崛起，我國廠商也開始打入汽車產業，切入向來封閉的汽車原廠供應鏈。

以電動車大廠特斯拉為例，特斯拉越洋尋找供應夥伴，因為我國廠商可以少量多樣化為其特別量身打造，再加上電動車的生產須涉及電子零組件，這些都是我國廠商的優勢項目。如今，我國許多廠商因應電動車的發展，形成新的產業聚落，成為智慧電動車市場的重要供應商。(參考資料：改寫自打造「護國神山群」

經長鎖定電動車與5G供應鏈，中央通訊社，2021/01/20。)



23. ( )特斯拉屬於跨國企業，下列有關跨國企業的敘述何者**錯誤**？
- (A) 跨國企業因交通便利、網路發達得以發展  
(B) 跨國企業若倒閉只有總部國家受影響  
(C) 跨國企業產品可以提供消費者更多選擇  
(D) 跨國企業可以促進各國產業發展
24. ( )為什麼在過去，我國廠商很難成為汽車供應鏈的廠商？
- (A) 汽車廠商獨厚特定國家  
(B) 我國廠商技術尚不純熟  
(C) 汽車供應鏈追求品質穩定  
(D) 我國廠商價格不菲
25. ( )根據上文敘述，我國廠商可加入電動車市場，是受惠於下列何者原因？
- (A) 我國在電子零組件生產具相對優勢  
(B) 我國政府在汽車業上採取補助措施  
(C) 我國汽車廠牌受到他國消費者喜愛  
(D) 我國盛產關於汽車製造的相關原料

<範圍：L3~L4 >

【劃卡代號：53】

班級：

座號：

姓名：

◎ 請根據文意回答下列 2 問題：

知名美式賣場販售之進口自有品牌「科克蘭綜合莓」、「藍莓」接連被驗出 A 肝病毒，另進口的「Formaggio 油漬摩佐羅拉乾酪」則被檢驗出一級致癌物環氧乙烷與法令規定不符。各地方衛生局要求分店均應下架不販售有問題商品。

主管機關籲請消費者密切注意業者公告資訊，民眾如因本事件有相關消費疑義，可撥打「甲 服務專線」諮詢，或向各縣市政府「乙 機關」提出申訴，以維自身權益。

26. ( ) 政府設立「甲 服務專線」以提供消費諮詢及受理消費申訴服務，來保障消費者權益並加強服務消費者。請問：該專線電話為何？
- (A) 1999  
(B) 1965  
(C) 1314  
(D) 1950
27. ( ) 根據文意，上文中的「乙 機關」指的是下列何者？
- (A) 公平交易委員會  
(B) 消費者服務中心  
(C) 消費者文教基金會  
(D) 消費者保護處
- 
28. ( ) 台灣加入WTO前，農民多次至經濟部抗議。他們擔憂相關加入WTO後，會使本國農業面臨龐大的競爭壓力，可能損及農民利益。若政府欲化解農民擔憂的問題，較「不可能」採取下列何種做法？
- (A) 改變生產方式轉作休閒農場  
(B) 健全相關法規確保公平競爭  
(C) 對進口農產品課徵高額關稅  
(D) 輔導農民轉型種植其他作物

29. ( ) 美甲師小欣有很棒的指甲彩繪手藝，常有鄰居太太們慕名到小欣的美甲工作室做指甲彩繪，並支付小欣材料及設計費。請問：關於美甲師小欣，下列敘述何者正確？
- (A) 雙方是在無形市場進行指甲交易彩繪  
(B) 小欣為自己畫的指甲彩繪屬於有形商品  
(C) 指甲彩繪的價格是由美甲師決定  
(D) 美甲師幫客人畫的指甲彩繪屬於無形勞務
30. ( ) 台灣進口東南亞製造的甲產品，對台灣的消費者的影響，下列說明何者正確？
- (A) 台製甲產品的價格高於進口商品  
(B) 能買到較便宜的甲產品  
(C) 不利台製甲產品的銷售量  
(D) 進口甲產品的價格高於台製的生產價格

===== 考題結束 =====